

歷史科

1. 某一原住民族群「以祀壺信仰作為祖靈的象徵，在壺、罐裝上清水，插上草葉；祭品以檳榔、米酒等為主。」請問：上述這種「祀壺信仰」的西拉雅族，請問他們的文字為何？(A)希臘文(B)新港文書(C)甲骨文(D)拉丁文。
2. 十六世紀末就有日人到臺灣本島活動，為何到十七世紀歐洲國家先後在臺灣競逐時，反而不見日人蹤跡？(A)荷蘭抵制日本貿易(B)明朝實施海禁政策(C)日本實施鎖國政策(D)清廷驅逐日本勢力。
3. 關於新石器時代的特徵，何者有「誤」？(A)採集是唯一生產方式(B)出現定居聚落(C)會燒製陶器(D)有農業活動。
4. 荷蘭人在平定漢人抗荷事件後，在台江內側的「赤崁」商業區另建新城。請問此城的名稱為何？(A)普羅民遮城(B)熱蘭遮城(C)聖薩爾瓦多城(D)聖多明哥城。
5. 有關於歐洲人在東亞的拓殖活動，下列配對何者「有誤」？(A)西班牙-菲律賓(B)荷蘭-臺灣南部(C)荷蘭-印度(D)葡萄牙-澳門。
6. 新航路之後，在 17 世紀時，荷蘭統治台灣，對於荷蘭人治理臺灣的敘述，何者**正確**？(A)以臺灣總督身分，為治臺最高行政長官(B)對原住民全盤實施武力鎮壓(C)在大員建立行政中心普羅民遮城(D)平定了漢人的郭懷一事件。
7. 十七世紀時，某國人從「三貂角」上岸占領「雞籠」，並興建聖「薩爾瓦多城」，之後在「滬尾」建造「聖多明哥城」，聖多明哥城的興建對控制淡水河口有很重要的地位。請問，某國人指的是？(A)荷蘭人(B)西班牙人(C)日本人(D)葡萄牙人。
8. 明末清初，明朝殘餘勢力，南明的唐王，改某人姓名，因此這人被尊稱為「國姓爺」，之後桂王，封他為延平郡王，請問這個人為何人？(A)鄭成功(B)鄭和(C)鄭元暢(D)鄭容和。
9. 永祈是清領時期居住在鹿港的糖商，由於商業往來的關係，常常必須來往福建跟鹿港兩地，為避免同業的惡性競爭、降低航海風險，永祈可以加入何種組織？(A)北郊(B)東郊(C)布郊(D)糖郊。
10. 瓜瓜就讀臺中縣石岡鄉土牛國小，發現校園內，有塊「土牛地界碑」，在了解後知道該碑是先民開發石岡地區的歷史證物，當初除此碑外，另外也堆了十九個土牛、挖了深溝，形成一條「土牛線」。請問土牛線的作用為何？(A)規範原住民的活動空間，方便管理(B)畫定漢人與原住民的漢番界線(C)為防止清朝派兵攻臺所設立的防線(D)為防止佃農與墾戶之間發生土地糾紛所劃分的界線。
11. 歷史上曾實施多次海禁政策，某統治時期曾頒布的海禁政策，主要是為了斷絕沿海人民與盤據臺灣島上的鄭氏王朝往來。請判斷上述是哪一統治時期？(A)荷蘭統治時期(B)英國統治時期(C)清領統治時期(D)西班牙統治時期。
12. 臺灣地名「林鳳營」、「左營」、「岡山營」、「左鎮」的出現，源自於為解決鄭氏治臺時期糧食匱乏的問題，且讓軍隊能自耕自食，請問這是當時實施的何項措施？(A)屯田政策(B)封山政策(C)班兵政策(D)海防政策。
13. 臺灣俗諺：「红柿出頭，羅漢腳仔目屎流」、「一個某，卡贏三個天公祖」敘述臺灣男女比例懸殊，找不到結婚的男性越來越多，是因清朝政府頒佈何項政策所導致？(A)劃界封山(B)渡臺禁令(C)海禁政策(D)開港通商。
14. 「XX」是台灣中部的原住民勢力，範圍包括台中市，彰化縣，南投縣，統治約 20 個部落的共主，在荷蘭兩次出兵攻擊之後，納入荷蘭管轄範圍，請問「XX」為何？(A)西拉雅族(B)郭懷一(C)莫那魯道(D)大肚王。
15. 小明去台南旅遊，參觀了「台灣開拓史料蠟像館」，其原址是英商的德記洋行，請問「洋行」的出現，應該是在那個戰爭之後呢？(A)第二次世界大戰(B)中法戰爭(C)牡丹社事件(D)英法聯軍。
16. 小南參觀文物展，看到一塊解說牌，內容如下「他看清鐵路的重要性，遂在西元 1887 年著手建設當時中國第一條官辦客運鐵路，這條鐵路後來成為日本人接手興建台灣南北縱貫鐵路的藍本。」這段文字應該是描述下列哪一位人物的建設成果？(A)陳永華(B)唐景崧(C)劉銘傳(D)鄭成功
17. 大約 2000 年前，台灣進入金屬器時代，代表文化是哪一個文化呢？(A)圓山文化(B)大坌坑文化(C)十三行文化(D)長濱文化。
18. 清朝末年「沈葆楨」在台灣的兩地修建砲台，一個是高雄旗津的「旗後」砲台，另一個就是「億載金城」，請問這座億載金城位於何地呢？(A)安平(B)鹿港(C)大稻埕(D)花蓮。
19. 移民渡海來臺謀生，為求平安順利，會先祈求祖先與神明庇佑。下列哪一位神明是不分祖籍或語言別，成為漢人的「共同信仰」？(A)三山國王(B)媽祖(C)保生大帝(D)開漳聖王。
20. 清朝末年的「牡丹社事件」，這個戰爭造成什麼影響呢？(A)使得日本併吞越南(B)清朝開始積極經營台灣，日本併吞琉球，沈葆楨來台灣(C)法國併吞越南，派遣劉銘傳來台(D)割讓台灣澎湖，簽訂馬關條約。

歷史解答

1-5	6-10	11-15	16-20
BCAAC	DBADB	CABDD	CCABB

地理科

21. 位置的表示有兩種，以下哪個敘述是屬於「相對位置」？(A)三重高中的地址是三重區集美街 212 號(B)安安坐在第 3 排第 4 列(C)東京位在 139°E, 35°N(D)廣興號漁船位在台灣的東南方 150 哩海面上。
22. 請問下表對經緯線的敘述何者**不正確**？

項目	(A)定義	(B)方向	(C)度數	(D)長度
經線	連接南、北極的圓弧線	南北向	東、西經各有 180 度	0 度經線最長
緯線	赤道及其平行的圓圈	東西向	南、北緯各有 90 度	赤道最長、往兩極縮短

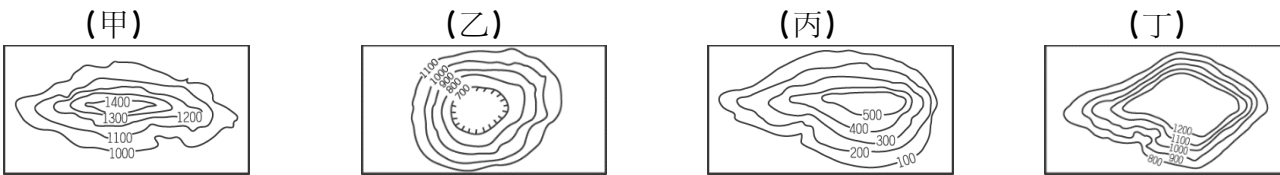
23. 下列有關大、小比例尺的比較，何者錯誤？

項目	(A)	(B)	(C)	(D)
大比例尺	1:1,000,000	詳細	可畫範圍小	台灣地圖
小比例尺	1:10,000	簡略	可畫範圍大	亞洲地圖

24. 下列有關台灣位置及範圍的敘述，何者正確？(A)台灣島的經緯度位置是 120°E~122°E，22°S~25°S (B)台灣位在琉球群島與菲律賓群島之間 (C)台灣地區涵蓋範圍的總面積約 3600 平方公里 (D)太平島、東沙島屬於屏東縣管轄。

25. 臺灣冬季時，常會有候鳥來臺避寒，或者成為避暑北移的休息站。請問：造成此種現象的主要因素為何？(A)臺灣環境汙染較少 (B)臺灣位居板塊接觸帶 (C)臺灣位於海陸交界處 (D)臺灣位居溫帶與熱帶氣候的過渡帶上。

26. 請問杰倫住在台北盆地，較符合下列哪個等高線地形圖？(A)甲 (B)乙 (C)丙 (D)丁。



27. 在臺灣的分水嶺是哪一山脈？(A)雪山 (B)海岸 (C)玉山 (D)中央。

28. 關於沙岸和岩岸的比較如下表。請問：表中何者有誤？

類型	(A) 沿海平原	(B) 海岸線	(C) 海水深度	(D) 產業發展
沙岸	狹窄	較平直	較淺	鹽業、養殖漁業
岩岸	寬廣	較曲折	較深	航運、漁業

29. 請問下列何者是形容天氣，也就是短時間大氣的狀態？

(A)冬暖夏涼 (B)東山飄雨，西山晴 (C)春天後母臉 (D)未吃五月粽，破裘不敢放。

30. 下列有關北部海岸特徵的敘述，何者『正確』？(A)海岸線平直 (B)多沙洲、潟湖 (C)多珊瑚礁 (D)多岬角岬灣。

31. 下列哪一島嶼的成因與其他三者不同？(A)綠島 (B)琉球嶼 (C)釣魚臺列嶼 (D)澎湖群島。

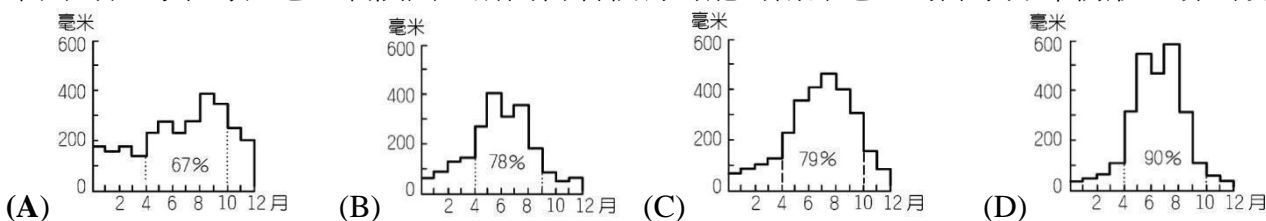
32. 臺灣夏季的盛行風向為何？(A)↗ (B)↙ (C)↖ (D)↘。

33. 國際上經濟海域，是從海岸線延伸到海上多少海裡？(A)3 (B)12 (C)100 (D)200。

34. 參考附表某地一至十二月氣溫的數據，請問此地的年溫差為多少度？(A)12 (B)13 (C)14 (D)15。

月分	一月	二月	三月	四月	五月	六月	七月	八月	九月	十月	十一月	十二月
氣溫(°C)	15	18	21	25	27	28	29	29	28	26	22	19

35. 下列為台灣本島各地區氣候圖，請問何者較有可能為南部地區的降水分布情形，易出現缺水？



地理解答

21-25	26-30	31-35
DDABD	BDABD	BADCD

## 公民科

36. 依據我國《憲法》規定，我國國民年滿幾歲之後，便具有選舉權？(A) 16 歲 (B) 18 歲 (C) 20 歲 (D) 23 歲。

37. 下列是四位大學同學在 line 群組的聊天內容，若其中一人為我國國民，僅根據他們的敘述判斷，何者在聊天當時最可能具有中華民國國籍？(A)小鳳：「我出生當天，父親正好當選新北市市議員」 (B)小惠：「等了 5 年，我下周將前往內政部申請歸化」 (C)蓉蓉：「我的出生地是美國，不過現在在台灣工作」 (D)琪琪：「我的父母都是日本人，但我在臺北市出生」。

38. 關於開班會的步驟，下列何者正確？(甲)宣布開會(乙)臨時動議(丙)提案討論(丁)各股股長報告(戊)老師講評 (A)甲→乙→丙→丁→戊 (B)丁→甲→丙→乙→戊 (C)甲→丁→丙→乙→戊 (D)乙→丁→戊→甲→丙。

39. 金曲獎最佳男歌手獎由嘻哈歌手 Leo 王奪下。具有中華民國國籍的 Leo 王，今年 25 歲，在我國屬於表(一)的哪些身分？

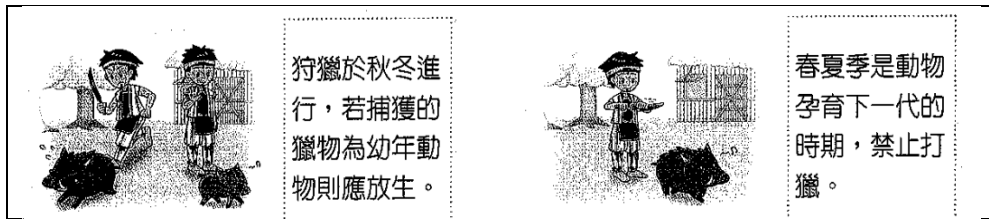
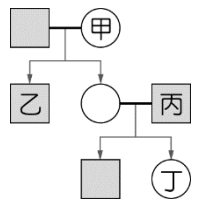
(A)甲乙 (B)甲丙 (C)乙丙 (D)丙丁。

甲	國民
乙	難民

丙	公民
丁	公務員

表(一)

- 40.國片自《返校》上映以來，白色恐怖的背景與拍攝手法引發關注，網路上也議論紛紛。其中關於師生戀的情節，若發生在現今社會，以下哪位網友的發言是正確的？(A)網友甲：若老師與未滿 16 歲的學生發生性行為，就會違反《性別平等教育法》(B)網友乙：師生戀的故事很浪漫，我們應該祝福他們(C)網友丙：這樣的事情被舉發後，學校無法處理，要立刻報警(D)網友丁：學校會將此案移送教師評審委員會調查。
- 41.依法律規定，子女應孝敬父母，若疏於照顧父母，應負起法律責任。但若子女曾有被父母家暴、遺棄等情況，可依【甲】法向【乙】請求免除或減輕扶養義務。請問：上述【甲】、【乙】分別為下列何者？(A)《民法》、立法院(B)《性別工作平等法》、社會局(C)《民法》、地方法院(D)《家庭暴力防治法》、警察局。
- 42.參加喜慶婚宴時，小丸子和爺爺、奶奶、爸爸、叔叔、嬸嬸、媽媽、姊姊坐在同一桌，這些同桌的親戚當中，和小丸子是直系血親及旁系血親分別各有幾位？(A) 4 位、2 位(B) 4 位、1 位(C) 5 位、1 位(D) 3 位、2 位。
- 43.台灣生育率下降的現象十分明顯，對個人、家庭或是整體產業發展都有深遠影響。下列哪一種家庭型態與生育率下降最有密切關係？(A)折衷家庭(B)頂客家庭(C)新住民家庭(D)重組家庭。
- 44.圖(一)為曉明的家庭示意圖，曉明與朋友聊天中提到，自己與家中成員的關係皆為血親關係。若以■代表男性，○代表女性，線段—代表婚姻關係，箭頭→代表親子關係，則曉明最可能是圖(一)中哪一個位置？(A)甲(B)乙(C)丙(D)丁。
- 45.開班會時，因為窗外的選舉宣傳車經過，大聲宣傳，使得眾人聽不清提案者的發言。此時，可以提出何種問題，要求主席處理？(A)秩序問題(B)權宜問題(C)表決問題(D)議案問題。
- 46.狩獵活動對太魯閣族男子而言，是英勇及智慧的象徵，也是與族人合作的表現，但他們也有嚴格的狩獵禁忌。圖(二)是太魯閣的狩獵禁忌，從中可以看出原住民族的哪一種信念？(A)族人共工共享農作物(B)部落起源於同一祖先(C)與自然環境和平共存(D)部落的族人都是家人。



謄圖(二)

- 47.2018 年南投縣的魚池鄉公所向鄉民代表會提案退出原住民地區，但中央主管機關依據法律認定，魚池鄉是邵族傳統居住且具該族歷史淵源及文化特色之地區，認定該鄉為原住民地區，上文中的「法律」最有可能是下列何者？(A)《原住民族基本法》(B)《原住民族身分法》(C)《原住民族教育法》(D)《原住民族語言發展法》。
- 48.人權是普世價值，許多國家都在法律中明文保障。下列關於人權的敘述何者正確？(A)來台的外籍移工或旅客不是我國公民，但我國仍有保障其人權的責任(B)父母基於愛可以用體罰管教，故沒有侵犯人權的疑慮(C)違反法律的罪犯，已對他人的權利造成傷害，因此國家不需要保障罪犯的人權(D)有些國家女性沒有投票權，這是文化差異，和人權無關。
- 49.排灣族頭目為長嗣繼承的世襲制，現任頭目的長子或長女才能成為繼承者。頭目有權支配平民及收稅，但也必須負起維持部落秩序，與其他部落交涉，或帶領族人開墾新土地的義務。上述是在介紹原住民族中的何者？(A)部落領袖(B)部落會議(C)部落信仰(D)部落規模。
- 50.如果能發展部落經濟產業，促進部落就業機會，就有機會讓部落人口逐漸回流，再創部落蓬勃生機，下列哪一項做法能達到上述效果？

- (A) 培訓族人把傳統編織的生活技能，轉變為觀光導覽的職業。
- (B) 進行原住民母語學習課程。
- (C) 參與集會遊行活動保護部落的權利。
- (D) 透過老屋重建，啟動部落共工互助機制。

公民解答

36-40	41-45	46-50
CACBA	CABDB	CAAAA