

歷史科

- 「西域」是古代東西雙方往來的必經之路，西漢「漢武帝」派遣大臣通西域。請問這個歷史人物為何？(A)班固 (B)張騫(C)司馬遷 (D)班超。
- 某一個朝代，天子沒落，諸侯崛起，其中「齊桓公」這位諸侯，接受「管仲」「尊王攘夷」的建議，號召諸侯尊敬天子，共同抵禦外族，請問這是什麼朝代呢？(A)東周 (B)西晉 (C)東漢 (D)北宋。
- 秦始皇的「焚書坑儒」與漢武帝的「獨尊儒術，罷黜百家」，其目的均是為統一思想，便於控制人民。有關二者實行後的結果，下列那一敘述比較符合於史實？(A)前者加速王朝滅亡，後者得以官定思想束縛人民 (B)前者有效制止反抗思想，後者未能有效統一思想 (C)均導致王朝人才盡失 (D)均加速其王朝的滅亡漢朝。
- 下列是關於「西周封建制度」的描述，哪一項是「錯誤」？(A)土地全歸「貴族」所有 (B)貴族以「嫡長子」為繼承制度 (C)貴族須按身分等級遵守規範 (D)始皇帝實行中央集權開始兩千年。
- 清中葉後，某國為打破貿易限制，曾派馬加爾尼使節來華，希望清廷改善中國貿易環境。而乾隆皇帝則以天朝口吻回應，所要求的項目與天朝體制不合為由加以拒絕。請問這是哪一個國家？(A)義大利 (B)美國 (C)法國 (D)英國。
- 秦始皇滅六國之後，西元前 221 年，中國首次出現大一統的國家。有關於「秦始皇」的敘述，何者「有誤」？(A)採法家思想治國 (B)設置郡縣 (C)派遣鄭和下西洋 (D)統一文字制度。
- 有一條交通要道，主要是將中國的絲織品輸往西方，因此而得名；相對的，也將宗教、西域的音樂、繪畫等透過此交通要道傳入中國，促進中西文化的交流，請問這條交通要道為何？(A)長城(B)渠道(C)絲路(D)運河。
- 地理大發現後，由於新航路發達使歐洲人相繼東來。乾隆年間，清朝為便於管理，僅開放哪一港口對外通商？(A)上海 (B)廣州 (C)寧波 (D)廈門。
- 清朝末年，朝野排外情緒高漲，清廷利用「民氣可用」而縱容的亂事為何？(A)太平天國 (B)義和團 (C)開化黨 (D)東學黨。
- 英法聯軍之後，清朝開始第一個改革，以「軍事國防」為重心，請問「自強運動」的主導機構為何？(A)理藩院 (B)禮部 (C)外交部 (D)總理各國事務衙門。
- 元毛毛本來住在「平城」，配合政府遷都，也跟著遷居到「洛陽」，配合皇帝的命令，穿著漢人衣服，和漢人結婚，請問他應該是哪一個皇帝在位時候的人呢？(A)北魏孝文帝(B)唐太宗 (C)晉武帝 (D)隋文帝。
- 元朝開國皇帝是「元世祖」「忽必烈」，他的祖父就是鼎鼎大名的「成吉思汗」，請問建立元朝的民族為何？(A)契丹 (B)匈奴 (C)女真 (D)蒙古。
- 唐玄宗和阿拉伯帝國展開一個戰爭，唐朝戰敗，造成造紙術西傳，請問這是什麼戰爭？(A)怛羅斯之役 (B)玄武門之變 (C)安史之亂 (D)黃巢之亂。
- 日本從東漢以後開始與中國接觸，隋唐時期，日本大量派遣使節到中國，由「孝德天皇」推行「唐化運動」，請問為何？(A)明治維新 (B)大化革新 (C)自強運動 (D)王安石變法。
- 「隋朝」為了抑制世族勢力，由讀書人報名參加考試，考取得任官職，請問這是什麼制度？(A)科舉考試 (B)九品官人法 (C)世襲身分 (D)察舉制度。
- 「宋代」儒學復興運動，並融合佛教和道家思想，提出新觀念，強調品德修養，請問這個學術思想稱為什麼？(A)史學 (B)考據學 (C)經學 (D)理學。
- 明朝末年內憂外患不斷，請問明朝是因為何者而滅亡？(A)宦官 (B)流寇 (C)倭寇 (D)黨爭。
- 十五世紀末，歐洲人發現亞洲的新航路，促進中西文化交流。明末某位傳教士最為著名，其中，他曾經與「徐光啟」合譯《幾何原本》，其目前成為數學科最久的教科書，請問這位傳教士為何人？(A)宋應星 (B)沈括 (C)湯若望 (D)利瑪竇。
- 自強運動以富國強兵為目的，但僅是移植西方的物質文明；而下列哪一場戰爭戰敗，顯示「自強運動」的成效有限？(A)中法戰爭 (B)八國聯軍 (C)鴉片戰爭 (D)甲午戰爭。
- 清朝末年的甲午戰爭，是個意義重大的戰爭，以下對於甲午戰爭的敘述「錯誤」？(A)清朝戰敗，派李鴻章到日本簽馬關條約 (B)割讓台灣澎湖，遼東半島，後來俄德法三國干涉，台澎重歸清朝統治 (C)承認朝鮮獨立自主 (D)戰敗國允許日本在通商口岸設廠製造。

歷史解答

1-5	6-10	11-15	16-20
BAADD	CCBBD	ADABA	DBDDB

地理科

- 中國鄰國眾多，自古以來彼此間往來頻繁，許多國家也深受中華文化影響，但中國與印度文化卻截然不同，造成此差異與下列哪項因素最為密切？(A)經濟發展程度不同 (B)印度深受美洲影響 (C)喜馬拉雅山橫亘 (D)各居南

北半球。

22. 中國省級行政區多達 33 個，然而中國西部行政區面積遠大於東部行政區，造成此現象的原因為何？(A)東部地勢較平坦 (B)東部氣候較乾燥 (C)西部人口密度較低 (D) 西部鐵路密度較低。

23. 從中國哈爾濱到上海再到三亞，一月月均溫有越來越高的趨勢，這與下列哪個因素最相關？(A)經度跨距 (B)緯度高低 (C)地勢高低 (D) 距海遠近。



圖1

24. 中國四大盆地中，何者盆地廣大而平坦，位於盆底中部的塔克拉瑪干沙漠，為中國最大沙漠？(A)塔里木盆地 (B)準噶爾盆地 (C)柴達木盆地 (D)四川盆地。

25. 「原來是位於長江三角洲最東端，以捉魚和紡織品維生的小城鎮。在 19 世紀，由於其港口作用，在國內的地位越來越高，現為中國大陸人口數量及經濟總量最大的城市」，請問依照以上描述，該城市應位於圖 1 何處？(A)甲(B)乙(C) 丙(D) 丁。

26. 印尼最大的唐人街位於雅加達的草埔，草埔知名建築物德金院，便是當地最早的華人寺廟之一。除印尼外，東南亞許多國家也有不少華人居住，請問這些華人的祖先原先最可能居住在中國境內哪種地理環境？(A)水草豐美的草原 (B)沿海丘陵或沿海平原 (C)群山環繞的盆地 (D)天寒地凍的北方。

27. 「法國今年的聖誕節是個非常『中國化』的節日，堆放在聖誕樹下的禮品都是中國生產的，而樹上懸掛的彩球、燈泡等裝飾品，甚至整棵聖誕樹也都來自中國。」上述現象與中國的何項特色最為相關？(A)農礦資源豐富 (B)邊境貿易活絡 (C)國內消費市場廣大 (D)勞工多且工資低廉。

28. 豆漿和米漿兩兄弟一同到中國旅遊，白天和晚上所照的照片如圖 2，請問，兩兄弟旅遊的地點，可能有怎樣的氣候特性？(A)年溫差大(B)日溫差大(C)冬夏兩季風向相反(D)雨量集中於夏季。




圖 2

29. 中國人口多分布於黑河－騰衝連線以東，西北半部則人口稀疏，主要是受下列哪些因素影響？(A)地形和土壤(B)氣候和地形(C)交通和政策(D)產業和洋流。

30. 「中國深圳因民工眾多，有業者看準這股商機，推出一種用貨櫃做成的廉價旅館，住宿一個晚上的費用不到新台幣 30 元，儘管如此，仍有許多在內陸地區找不到工作而流浪至此打工的人，負擔不起這筆費用。」上述情況可能與下列哪個中國社會現象最密切？(A)人口數量過多 (B)通貨膨脹嚴重 (C)區域發展不均 (D)勞工成本上漲。

31. 中國季風風向，夏季時從海洋吹向陸地，冬天時由陸地吹向海洋，造成此種冬夏兩季風向相反的原因為何？(A)海水固定方向流動(B)緯度高低(C)海陸性質差異(D)地勢高低。

32. 「中國顯著的經濟增長造就了一代“小皇帝”，他們是中國獨生子女政策下成長起來的年輕人，常常認為自己的需要高於一切。專家們說，在這一代年輕人中，很多人無法維持長久的婚姻關係，這是作為獨生子女被嬌生慣養的結果。」中國“小皇帝”的產生，是解決中國早期哪一個問題？(A)人口集中於東半部(B)經濟發展緩慢(C)實行共產體制(D)人口總數過多。

33. 作物主要可分為二種，一為果腹的糧食作物，另為當作工業原料或換取現金的經濟作物，而選項中哪一個作物可屬糧食作物？(A)茶 (B)甜菜 (C)棉花 (D)玉米。

34. 中國的「南稻北麥」、「南飯桶 北饅頭」說明了傳統的農業深受自然條件的限制，尤其指哪一個條件？(A)地形(B)氣候 (C)土壤 (D)病蟲害。

35. 中國 2013 年提出一帶一路政策，陸路通往歐洲，海路則串連東南亞經非洲到達歐洲，期望能與沿線國家增進交通、能源、貨物、人員的交流，增強彼此經濟活動的規模。其中「一帶」是希望借用古代「絲綢之路」的概念，發展與周邊國家的經濟合作關係。試問：下列何者為「一帶」會經過的行政區？(A)新疆維吾爾自治區(B)西藏自治區 (C)黑龍江省 (D)福建省。

36. 東北亞位於亞洲東北部，地處溫帶，四季分明，請問下列哪一個不是東北亞國家？(A)日本 (B)俄羅斯 (C)南韓 (D)北韓。

37. 朝鮮半島冬季嚴寒，居民多席地而坐，因而發展出哪個設施讓地板增溫？(A)溫突 (B)亭仔腳 (C)辛奇 (D)坎井。

38. 「韓流」第二代是 2006 到 2011 年，開始轉型為 K-Pop 的演唱團體與個別偶像明星為主，大幅超越了韓劇與電影，席捲亞洲各國，甚至進軍歐美流行音樂界，成為一股新興風潮，並帶動南韓的服飾、彩妝等相關產業發展，其經濟收益相當可觀。請問：南韓影響的產業，不包括下列何者？(A)化妝品(B)整形美容產業(C)南韓觀光產業 (D)財經金融

產業。

39. 1990 到 2008 年期間，北韓在「全球饑餓指數」惡化的排名中位居第二。造成北韓糧產不足，常有饑荒的問題，除了政治制度的影響外，與下列何項自然因素關係最密切？ (A) 颱風侵襲次數多 (B) 生長季短、平原少 (C) 火山活動與地震頻繁 (D) 年降水量少於 500 毫米。
40. 每年 3 月起，日本各地陸續都有櫻花盛開的美景。請根據氣候條件判斷，圖 3 哪一地區的櫻花開得最晚？(A) 甲 (B) 乙 (C) 丙 (D) 丁。

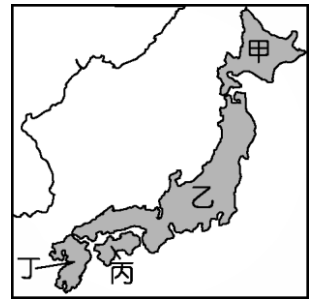


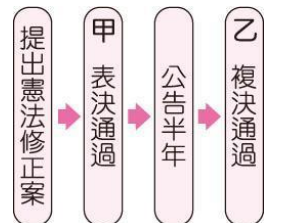
圖 3

地理解答

21-25	26-30	31-35	36-40
CCBAC	BDBBC	CDDBA	BADBA

公民科

41. 中國的高壓政治，在國際上不乏批評聲浪，卻未見其他國家實際插手干預中國內政，這是哪項國家要素的具體展現？ (A) 人民 (B) 主權 (C) 領土 (D) 政府。
42. 在我國中央政府機關中，其職權為負責制定法律並監督行政。所指的是哪個機關？ (A) 監察院 (B) 司法院 (C) 立法院 (D) 行政院。
43. 現代人可能因著作暢銷全球，而成為世界富豪；反觀古人寫的詩詞歌賦，雖常為人們歌詠傳頌，卻未必能賺得優渥的稿酬。上述古今的差異，最可能與近代民主國家立法保障下列哪一項人民的基本權利有關？ (A) 平等權 (B) 訴訟權 (C) 財產權 (D) 參政權。
44. 在法律制定的過程中，可能因為部分利益團體向民意代表施壓，使立法機關所制定的法律忽略多數民意。下列何項權利的行使，有助於補救上述的缺失？ (A) 受益權 (B) 訴願權 (C) 複決權 (D) 服公職權。
45. 小娟的哥哥整理我國修憲流程如右圖，小娟接觸相關課程後，決定在甲、乙兩處加入標註使資料更清楚。下列何者最可能是小媛所標註的內容？ (A) 甲：立法院、乙：公民投票 (B) 甲：立法院、乙：司法院大法官 (C) 甲：司法院大法官、乙：立法院 (D) 甲：司法院大法官、乙：公民投票。
46. 民主國家必須依法行政，政府如果沒有法律根據，便不能任意增加人民的負擔或是限制人民的基本自由權利，否則人民就可針對該事項尋求法律的救濟。上述內容最能展現民主政治的哪一種特色？ (A) 民意政治 (B) 法治政治 (C) 責任政治 (D) 政黨政治。
47. 在我國，立法機關對於政府施政不滿意時，可以提出不信任案，迫使其倒閣重組，以負起政治責任。依我國《憲法增修條文》規定，立法院提出不信任案時，其行使對象是下列何者？ (A) 正、副總統 (B) 司法院院長 (C) 立法院院長 (D) 行政院院長。
48. 右圖是某則新聞的內容，但螢幕的一角被飲料杯擋住了。根據圖中內容推斷，被飲料杯擋住的文字最可能為下列何者？ (A) 糾舉 (B) 糾正 (C) 彈劾 (D) 審計。
49. 大南：「當監察委員通過彈劾案件後，會交由我們審理，否則即使公務員涉及違法情事，我們也不能主動對當事人的行為進行審議。」根據大南的說法判斷，他應是任職於下列哪一個機關？ (A) 審計部 (B) 法務部 (C) 臺北高等行政法院 (D) 懲戒法院。
50. 許多選民遇到問題時經常四處陳情，下列哪一封陳情信內容屬於立法委員的職權？



- (A) 〇〇〇您好：
聽不能聽教育，懇請您們編列預算時能增加國民教育的經費。
陳情人小張
- (B) 〇〇〇您好：
某縣政府公務員的行為已涉及違法失職，請您們查明後予以彈劾。
陳情人阿虎
- (C) 〇〇〇您好：
《社會秩序維護法》的部分條文引發爭議，請您們作出《憲法》解釋。
陳情人小娟
- (D) 〇〇〇您好：
《勞動基準法》中的部分規定已不合時宜，希望您們能提案修改。
陳情人阿妙

51. 阿華於上課時與同學分享，他未來想要投入地方選舉，從事服務地方民眾、監督地方政府施政與把關政府預算工作。請問阿華至少要幾歲才有機會達成他的目標？ (A) 21 歲 (B) 22 歲 (C) 23 歲 (D) 24 歲。
52. 地方自治是指地方上的人民，在國家監督之下，依據法令或基於授權，自行組織自治團體，以處理地方上的公共事務。根據上述說明判斷，下列何者屬於地方自治的事項？ (A) 辦理縣市議員的罷免事宜 (B) 決定與他國建立邦交關係 (C) 增加立法委員應當選名額 (D) 更改國防武器購買的種類。
53. 根據以下各圖示，何者最可能是公投選票？



54. 在我國，若要舉辦縣市長選舉，須依據哪項法律的規定辦理？ (A) 地方制度法 (B) 公民投票法 (C) 集會遊行法 (D) 公職人員選舉罷免法。
55. 某黨主席在一場選舉活動中，為該黨候選人李大同拉票的發言內容如下：「李大同已多次連任，具有豐富的經驗，相信他一定能為大家好好的監督政府，請各位選民繼續給他連任的機會。」李大同所參選的公職人員最可能是下列何者？

(A)市長 (B)鎮長 (C)監察委員 (D)立法委員。

公民解答

41-45	46-50	51-55
BCCCA	BDBDD	CAADD